

## Proposta de resolução da componente de Física do Exame Final Nacional de Física e Química A – 2.ª Fase, versão 1

Prova de Exame Final Nacional do Ensino Secundário, Prova de Física e Química A, 11.º ano de escolaridade, 2.ª Fase, Instituto de Avaliação Educativa, IAVE, 18/julho/2024, <https://iave.pt/wp-content/uploads/2024/07/EX-FOA715-F2-2024-V1-1.pdf>

### 1.

#### 1.1. (\*)

(D)

Comparativamente às radiações detetadas pelo Hubble, o JWST pode detetar radiações de maior comprimento de onda e menor energia por fóton.

#### Notas:

- O JWST opera, essencialmente, na região do infravermelho, ao contrário do Telescópio Espacial Hubble, que opera na região do visível. Como  $\lambda_{\text{infravermelho}} > \lambda_{\text{visível}}$ ,

$$\lambda_{\text{detetado por JWST}} > \lambda_{\text{detetado por Hubble}}$$

- O comprimento de onda da radiação é inversamente proporcional à sua frequência,

$$\lambda = \frac{c}{f}$$

em que  $c$  é a velocidade de propagação da luz no vácuo.

- Sabendo-se que a energia transportada pela radiação é diretamente proporcional à sua frequência ( $E = h \times f$ ), conclui-se que

$$E = h \times \frac{c}{\lambda}$$

ou seja, a energia transportada pela radiação é inversamente proporcional ao seu comprimento de onda.

#### 1.2. (\*)

a) – 2;

b) – 1;

c) – 3;

d) – 1

A função do escudo solar do JWST é refletir a energia que é transferida do Sol, da Terra e da Lua por radiação. Este telescópio já conseguiu identificar várias substâncias no Universo, entre as quais hidrocarbonetos saturados, como, por exemplo,  $C_2H_6$ , e substâncias constituídas por moléculas apolares, como, por exemplo,  $CH_4$ .

#### Notas:

- A radiação que incide na superfície do escudo solar do JWST, que é opaco para essa radiação, é refletida (podendo considerar-se desprezável a radiação que é absorvida).
- Não havendo contacto entre o escudo solar do JWST e os corpos celestes (pode considerar-se que o espaço entre o JWST e esses corpos é vazio), não são possíveis os mecanismos de transferência de energia por condução ou convecção.
- Num hidrocarboneto saturado, os átomos de carbono interligam-se apenas por ligações simples, sendo a sua fórmula geral dada por  $C_nH_{2n+2}$ .
- As moléculas metano são apolares; as moléculas de água ( $H_2O$ ) e as moléculas de amoníaco ( $NH_3$ ) são polares.

1.3.

(B)

Os painéis fotovoltaicos do JWST produzem energia elétrica. A potência gerada por estes painéis aumenta com a diminuição do ângulo entre os raios solares incidentes e a normal ao plano do painel fotovoltaico e é calculada pela expressão  $U \times I$ , em que  $U$  representa a diferença de potencial elétrico aos terminais do painel e  $I$  representa a corrente elétrica que o atravessa.

**Notas:**

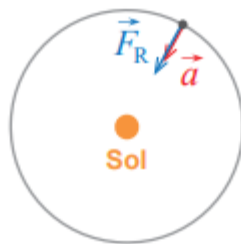
- A potência útil de um painel fotovoltaico (potência elétrica) é dada por  $P = U \times I$ , dependendo da irradiância.
- A irradiância é máxima quando a radiação incide perpendicularmente à superfície do painel (ângulo de incidência de  $0^\circ$ ). Assim, diminuindo o ângulo de incidência, mantendo-se as restantes condições, a potência útil também aumenta.

2.

2.1. (\*)

(A)

O diagrama, que não se encontra à escala, que pode representar a resultante das forças,  $\vec{F}_R$ , que atuam na Terra e a aceleração,  $\vec{a}$ , da Terra durante o seu movimento em torno do Sol é



**Notas:**

- Considerando que a Terra descreve uma trajetória circular em torno do Sol, o movimento da Terra é circular uniforme, sendo  $\vec{F}_{\text{gSol-Terra}}$ , a resultante das forças, uma força radial e centrípeta.
- Recordando a expressão que traduz a Lei Fundamental da Dinâmica,  $\vec{F}_R = m \times \vec{a}$ , conclui-se que a aceleração também é radial e centrípeta.

2.2. (\*)



- Cálculo da magnitude da força gravítica que a Terra exerce sobre o JWST:

Usando a Lei de Newton da Gravitação Universal, tem-se:

$$F_{\text{gTerra-JWST}} = G \times \frac{m_{\text{Terra}} \times m_{\text{JWST}}}{d_{\text{Terra-JWST}}^2}$$

Substituindo, fica:

$$F_{\text{gTerra-JWST}} = \frac{6,67 \times 10^{-11} \text{ N m}^2 \text{ kg}^{-2} \times 5,97 \times 10^{24} \text{ kg} \times 6200 \text{ kg}}{(1,50 \times 10^9 \text{ m})^2} \Leftrightarrow$$

$$\Leftrightarrow F_{\text{gTerra-JWST}} = 1,097 \text{ N}$$

- Cálculo da magnitude da resultante das forças que atuam no JWST

As forças que o Sol e a Terra exercem sobre o JWST têm a mesma direção e o mesmo sentido, pelo que a resultante dessas forças tem uma magnitude que é dada por:

$$F_{R_{\text{JWST}}} = F_{g_{\text{Sol-JWST}}} + F_{g_{\text{Terra-JWST}}}$$

Substituindo, fica:

$$F_{R_{\text{JWST}}} = 36,03 \text{ N} + 1,097 \text{ N} \Leftrightarrow F_{R_{\text{JWST}}} = 37,127 \text{ N}$$

- Cálculo do período de translação do JWST

Admitindo que o movimento do JWST é circular uniforme, tem-se:

$$F_{R_{\text{JWST}}} = m \frac{v^2}{d_{\text{JWST-Sol}}}, \text{ em que } v = \frac{2\pi}{T} \times d_{\text{JWST-Sol}}$$

$$\text{Logo, } F_{R_{\text{JWST}}} = m \times \frac{4\pi^2}{T^2} \times d_{\text{JWST-Sol}}$$

Substituindo, fica:

$$37,127 \text{ N} = 6200 \text{ kg} \times \frac{4\pi^2}{T^2} \times (1,496 \times 10^{11} \text{ m} + 0,0150 \times 10^{11} \text{ m}) \Leftrightarrow T = 3,156 \times 10^7 \text{ s}$$

$$T = \frac{3,156 \times 10^7 \text{ s}}{86\,400 \text{ s d}^{-1}} \Leftrightarrow T = 365,3 \text{ d}$$

### 3.

#### 3.1.

(B)

O módulo da força eletromotriz induzida nos terminais da bobina, quando o sistema de ignição é acionado, é  $2,5 \times 10^4 \text{ V}$  e aumentaria se o número de espiras aumentasse.

#### Notas:

- O fluxo do campo magnético no interior da bobina, diretamente proporcional ao n.º de espiras da bobina, é dado por:

$$\Phi_{m, \text{bobina}} = N \times B \times A \times \cos \alpha, \text{ com } \alpha = 0^\circ$$

- Uma vez que a direção do campo magnético se mantém perpendicular ao plano das espiras, o n.º de espiras se mantém constante assim como a área das espiras, a variação de fluxo do campo magnético no interior da bobina é dada por:

$$\Delta \Phi_{m, \text{bobina}} = N \times \Delta B \times A \times \cos \alpha$$

- Considerando a equação de definição do módulo da força eletromotriz induzida (média) nos terminais da bobina, temos:

$$|\varepsilon_i| = \frac{|\Delta \Phi_{m, b}|}{\Delta t}$$

$$|\varepsilon_i| = \frac{|N \times \Delta B \times A \times \cos \alpha|}{\Delta t}$$

- Substituindo, vem:

$$|\varepsilon_i| = \frac{20\,000 \times 1,0 \text{ T} \times 1,25 \times 10^{-3} \text{ m}^2 \times \cos 0^\circ}{1,0 \times 10^{-3} \text{ s}} \Leftrightarrow$$

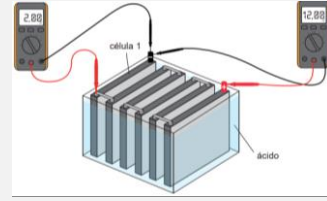
$$\Leftrightarrow |\varepsilon_i| = 2,5 \times 10^4 \text{ V}$$

## 3.2. (\*)

(D)

A resistência interna da célula 1 de uma bateria constituída por seis células iguais é  $1,25 \times 10^{-2} \Omega$ .

Notas:



- Considerando a equação da curva característica de um gerador,  $U_{\text{bateria}} = \varepsilon_{\text{bateria}} - r_{\text{bateria}} \times I$ , tem-se:

$$9,00 \text{ V} = 12,00 \text{ V} - r_{\text{bateria}} \times 40,0 \text{ A} \Leftrightarrow$$

$$\Leftrightarrow r_{\text{bateria}} = 0,0750 \Omega$$

- Uma vez que a bateria do automóvel inclui uma associação de seis células idênticas ligadas em série, conclui-se que

$$r_{\text{célula}} = \frac{r_{\text{bateria}}}{6}$$

$$r_{\text{célula}} = \frac{0,0750 \Omega}{6} \Leftrightarrow r_{\text{célula}} = 1,25 \times 10^{-2} \Omega$$

## 3.3. (\*)

- Dedução da relação matemática que suporta a atividade experimental:

Considerando que:

- a variação de energia interna do líquido usado no sistema de refrigeração dos motores de combustão se relaciona com a sua elevação de temperatura (não há mudança de estado físico) pela expressão:

$$\Delta U_{\text{líquido}} = m_{\text{líquido}} \times c_{\text{líquido}} \times \Delta \theta_{\text{líquido}}$$

- a energia elétrica fornecida à resistência de imersão, de potência  $P$  desconhecida e constante, é dada por:

$$E = P \times \Delta t$$

- a energia elétrica fornecida à resistência de imersão é igual à variação de energia interna do líquido usado no sistema de refrigeração dos motores de combustão, tem-se:

$$P \times \Delta t = m_{\text{líquido}} \times c_{\text{líquido}} \times \Delta \theta_{\text{líquido}} \Leftrightarrow c_{\text{líquido}} = \frac{P \times \Delta t}{m_{\text{líquido}} \times \Delta \theta_{\text{líquido}}},$$

o que permite concluir que  $c_{\text{líquido}}$  é inversamente proporcional a  $\Delta \theta_{\text{líquido}}$ .

- Identificação das grandezas a medir

Sabendo que é usada a mesma resistência de imersão e uma vez que foram disponibilizadas amostras de cada um dos líquidos com massas iguais, comparando as capacidades térmicas mássicas dos líquidos A e B e simplificando, obtém-se:

$$\frac{c_A}{c_B} = \frac{\frac{\Delta t_A}{\Delta \theta_A}}{\frac{\Delta t_B}{\Delta \theta_B}} \quad \text{Equação (1)}$$

A partir da Equação (1), conclui-se que as grandezas a medir durante o procedimento experimental, para cada um dos líquidos, são: o intervalo de tempo de aquecimento e a variação de temperatura. (Considerando que os líquidos se encontram inicialmente à mesma temperatura, pode ser medida diretamente a temperatura final de cada líquido.)

- Procedimento experimental

Depois de os líquidos serem introduzidos em recipientes com as mesmas características, serão aquecidos usando a resistência de imersão, de potência  $P$  desconhecida e constante. Para cada um dos líquidos, no instante em que se liga a resistência de imersão, é acionado o cronómetro (e medida a temperatura inicial da mistura usando o termómetro). Ao fim de um intervalo de tempo previamente estabelecido, desliga-se a resistência de imersão e mede-se a temperatura máxima atingida pelo líquido usando o termómetro.

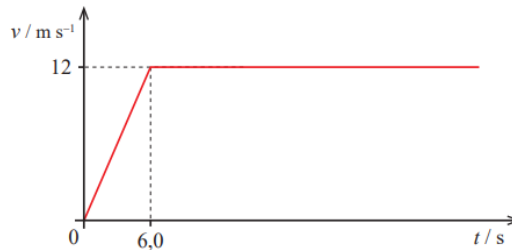
- Conclusão a retirar a partir da análise dos resultados

Como se escolhem intervalos de tempo de aquecimento iguais para os dois líquidos, simplificando a Equação (1), obtém-se:

$$\frac{c_A}{c_B} = \frac{\Delta\theta_B}{\Delta\theta_A} \quad \text{Equação (2)}$$

Assim, o líquido em que se verificar menor temperatura final (menor variação de temperatura) é o que apresenta maior capacidade térmica mássica, sendo o mais adequado para ser usado no sistema de refrigeração do motor.

## 4.



## 4.1. (\*)

- Cálculo da variação de energia cinética durante os primeiros 6,0 s de movimento:

$$\Delta E_c = E_c - E_{c0}, \text{ com } E_{c0} = 0 \text{ J}$$

$$\Delta E_c = \frac{1}{2} m v_{t=6,0 \text{ s}}^2$$

$$\Delta E_c = \frac{1}{2} \times 1000 \text{ kg} \times (12 \text{ m s}^{-1})^2 \Leftrightarrow \Delta E_c = 7,20 \times 10^4 \text{ J}$$

- Cálculo da energia que foi fornecida ao automóvel nesse intervalo de tempo:

$$\eta = \frac{E_{\text{útil}}}{E_{\text{fornecida}}} \times 100\%, \text{ em que } E_{\text{útil}} = \Delta E_c$$

Substituindo, fica:

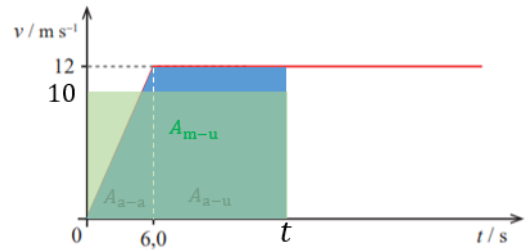
$$90\% = \frac{7,20 \times 10^4 \text{ J}}{E_{\text{fornecida}}} \times 100\% \Leftrightarrow E_{\text{fornecida}} = 8,0 \times 10^4 \text{ J}$$

4.2. (\*)

- Cálculo do instante,  $t$ , em que o automóvel ultrapassa a moto:

- Nota: Considera-se que os dois veículos se movem no sentido positivo do eixo dos  $xx$ .

No instante  $t$ , a posição da moto e a posição do automóvel são iguais. Como as posições no instante 0 s também são iguais, significa que, até ao instante,  $t$ , em que o automóvel ultrapassa a moto, os deslocamentos efetuados pelos dois veículos também são iguais,  $\Delta x_{\text{moto}} = \Delta x_{\text{automóvel}}$ .



Sabendo que o deslocamento é dado pela área do gráfico ( $t, v_x$ ), tem-se:

- para a moto (ver retângulo verde),

$$\Delta x_{\text{moto}} = 10 \times t \text{ (SI);}$$

- para o automóvel (ver trapézio azul),

$$\Delta x_{\text{automóvel}} = \frac{12}{2} \times 6,0 + 12 \times (t - 6,0) \text{ (SI)}$$

Assim,

$$10 \times t = \frac{12}{2} \times 6,0 + 12 \times (t - 6,0) \text{ (SI)} \Leftrightarrow t = 18,0 \text{ s}$$

- Cálculo da distância percorrida pelos dois veículos (igual ao deslocamento efetuado pelos dois veículos, visto que o movimento de ambos se dá sempre no sentido positivo do eixo dos  $xx$ ) até se encontrarem novamente:

$$\Delta x_{\text{moto}} = 10 \times t \text{ (SI)}$$

$$\Delta x_{\text{moto}} = 10 \text{ m s}^{-1} \times 18,0 \text{ s} \Leftrightarrow \Delta x_{\text{moto}} = 1,8 \times 10^2 \text{ m} \Rightarrow s_{\text{moto}} = 1,8 \times 10^2 \text{ m}$$

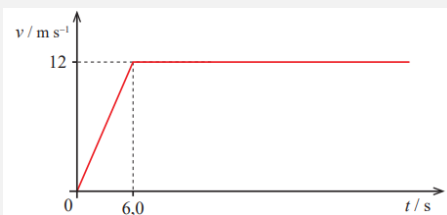
$$\Delta x_{\text{automóvel}} = 1,8 \times 10^2 \text{ m} \Rightarrow s_{\text{automóvel}} = 1,8 \times 10^2 \text{ m}$$

4.3.

(C)

O instante em que o automóvel e a moto apresentam igual velocidade ocorre antes dos 6,0 s, tendo os dois veículos diferente energia cinética.

Notas:



- No instante 6,0 s, a magnitude da velocidade do automóvel, que se move a partir do repouso com movimento retilíneo uniformemente acelerado, é  $12 \text{ m s}^{-1}$ , sendo superior a  $10 \text{ m s}^{-1}$ , a magnitude da velocidade da moto, que se move com movimento retilíneo uniforme.

- A equação de definição de energia cinética (de uma partícula) é

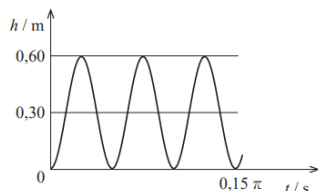
$$E_c = \frac{1}{2} m v^2$$

Sendo, no instante considerado, as velocidades do automóvel e da moto iguais, o veículo que apresenta maior massa (o automóvel), apresenta maior energia cinética.

## 4.4.

(C)

O gráfico que pode representar a altura,  $h$ , do ponto X [localizado na periferia de uma roda do automóvel com o raio de 0,30 m] em relação ao solo, em função do tempo,  $t$ , é

**Notas:**

- Não havendo deslizamento, o movimento de uma roda do automóvel (que se move com movimento retilíneo uniforme) pode considerar-se a combinação de um movimento de rotação uniforme e de um movimento de translação também uniforme.

- Não havendo deslizamento, a magnitude da velocidade de rotação em torno do eixo da roda de um ponto X, localizado na periferia de uma roda do automóvel com o raio de 0,30 m e que contacta com o pavimento, é  $12 \text{ m s}^{-1}$  (igual à magnitude da velocidade do centro de massa do automóvel). Assim, o período de rotação da roda obtém-se a partir de

$$v_x = \frac{2\pi}{T} \times r$$

$$12 \text{ m s}^{-1} = \frac{2\pi}{T} \times 0,30 \text{ m} \Leftrightarrow T = 0,05\pi \text{ (SI)},$$

sendo o intervalo de tempo correspondente a 3 períodos dado por

$$\Delta t = 3 \times T$$

$$\Delta t = 3 \times 0,05\pi \text{ (SI)} \Leftrightarrow \Delta t = 0,15\pi \text{ (SI)}$$

- Sendo a trajetória do automóvel (retilínea e) horizontal, a distância do centro da roda ao pavimento é constante e igual a  $r$ .
- A altura,  $h$ , de um ponto X localizado na periferia de uma roda do automóvel com o raio de 0,30 m, em relação ao solo, em função do tempo,  $t$ , estando o ponto X em contacto com o solo no instante inicial, é dada por

$$h = r + r \sin\left(\frac{2\pi}{T}t + \frac{3\pi}{2}\right)$$

$$h = 0,30 \left(1 + \sin\left(\frac{2\pi}{0,05\pi}t + \frac{3\pi}{2}\right)\right) \text{ (SI)} \Leftrightarrow$$

$$\Leftrightarrow h = 0,30 \left(1 + \sin\left(40t + \frac{3\pi}{2}\right)\right) \text{ (SI)}$$